









Фамилия:

Заполни таблицу. В. 1.

Фамилия:

Заполни таблицу. В. 2.








Неравенство	Рисунок. Два числа из промежутка.	Промежуток	Неравенство	Рисунок. Два числа из промежутка.	Промежуток
$X \geq 12$					$[3; \infty)$
		$(-\infty; -9]$	$X < -11$		
		$(-5; 0)$	$-23 < X < 7$		
$-1 \leq X < 7$					$[-5; -1)$

Фамилия:

Заполни таблицу. В. 3.

Фамилия:

Заполни таблицу. В. 4.

Неравенство	Рисунок. Два числа из промежутка.	Промежуток	Неравенство	Рисунок. Два числа из промежутка.	Промежуток
$X > 45$					$(3; \infty)$
$X \leq -6$					$(-\infty; -9]$
		$(-\infty; -92]$	$-2 \leq X \leq 7$		
		$[-3; -1]$	$-2 < X \leq 7$	